
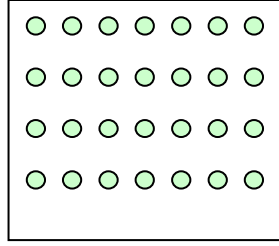


اختبار جانفي في مادة الرياضيات


التمرين الأول: أصل كل بطاقة بالعدد المناسب (4 ن)




28



18



23



20


التمرين الثاني: ألاحظ وأكمل: (3 ن)

→

24				28			
----	--	--	--	----	--	--	--

التمرين الثالث: أحسب القريصات وأملأ الجدول . (3 ن)

العشرات	الوحدات
.	.
.	.



التمرين الرابع: أحسب المجاميع التالية: (3 ن)

$$\begin{array}{l} 3 + 6 = . \quad 5 + 2 = . \quad 15 + 0 = . \\ 2 + 8 = . \quad 7 + 4 = . \quad 8 + 1 = . \end{array}$$