

اختبار الفصل الثاني في مادة التربية العلمية


التمرين الأول: (1.5 ن)

– أكمل كل جملة بالكلمة المناسبة :

- *أول شهر في السنة الميلادية هو
- *أول شهر في السنة الهجرية هو
- * يحتاج النبات في تغذيته إلى

التمرين الثاني: (2ن)

أرتب مراحل نمو جسم الطفل بالأرقام (1- 4)



.....

.....

.....

.....

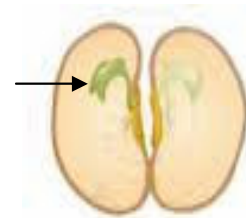

التمرين الثالث: (2ن):

اربط بين مجموعة الأيام وما تمثله:

- | | |
|------------------|-----------|
| * سبعة أيام | * سنة |
| * ثلاثون يوماً | * شهراً |
| * ثلاثة أشهر | * فصلاً |
| * اثني عشر شهراً | * أسبوعاً |

التمرين الرابع: (2 ن)

لاحظ واكتب البيانات للرسم التالي:



التمرين الخامس: (2.5 ن)

أكمل الفراغات التالية بـ: (سـمـك - أزهار- ثماراً - بذور- طوله)

كلما ينمو النبات يزداد..... و..... جذعه، تظهر عليه..... تعطي..... تحتوي كل ثمرة على.....