

فرض من مادة الرياضيات للثانية المتوسطة

المستوى: السنة الثانية متوسطة

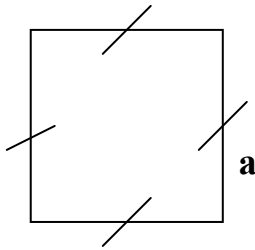
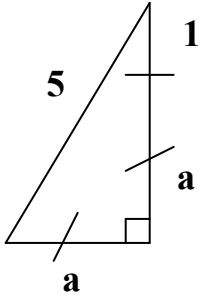
التمرين الأول: (5 ن).

أحسب المجموع الجبري التالي :

$$*A = (+15) - (-29) + 37 - (17 - 43) - (+11)$$

التمرين الثاني: (5 ن).

محيط المربع والمثلث القائم متساويان , أوجد قيمة الطول a .
(وحدة الطول هي cm).

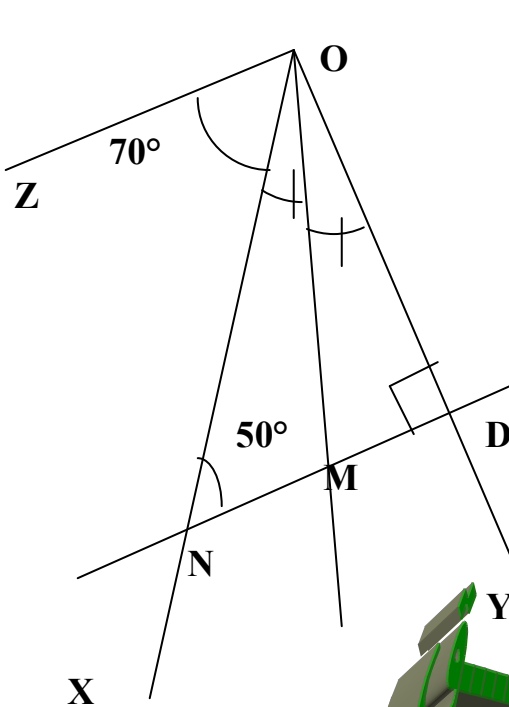


التمرين الثالث: (4 ن).

حل المعادلة : $\frac{x+3.5}{4} *$

التمرين الرابع: (6 ن).

أنظر الشكل حيث [OM] منصف الزاوية XOY .
أثبت أن (OZ) // (DN) ؟



فرض من مادة الرياضيات للثانية المتوسطة