

المستوى : الأولى متوسط

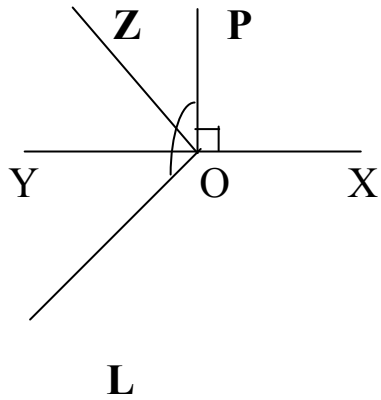
الفرض الأول للفترة الثانية

التمرين الأول :

- I - 1) أكتب العدد 0,8 كتابة كسرية ثم بسطه
- 2) أعط 3 كسور مساوية للكسر الناتج وبسوطها أصغر من 35
- II - على نصف مستقيم مدرج مبدؤه O ووحدته السنتيمتر
- 1) علم النقطتان A(1,5) و B(5,5)
- 2) علم النقطة C منتصف [AB] . ماهي فاصلة C
- 3) علم النقطة D حتى يكون للقطعتين [CD] و [AB] نفس الطول

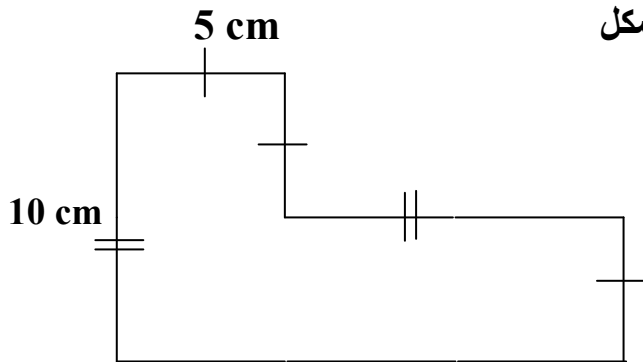
التمرين الثاني :

I - إنطلاقا من الشكل المقابل أعط :



- 1) الزوايا الحادة ، الزوايا القائمة .
- 2) زاويتين منفرجتين ولهما نفس القيس
- 3) أحسب قيس الزاوية \hat{ZOL}

II - أحسب مساحة الشكل



المستوى : الأولى متوسط

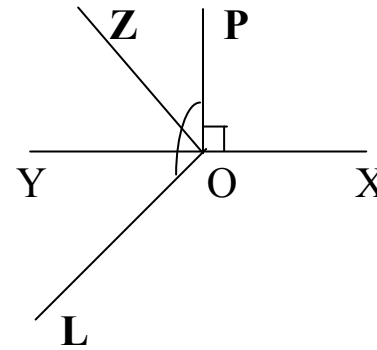
الفرض الأول للفترة الثانية

التمرين الأول :

- I - 1) أكتب العدد 0,8 كتابة كسرية ثم بسطه
- 2) أعط 3 كسور مساوية للكسر الناتج وبسوطها أصغر من 35
- II - على نصف مستقيم مدرج مبدؤه O ووحدته السنتيمتر
- 1) علم النقطتان A(1,5) و B(5,5)
- 2) علم النقطة C منتصف [AB] . ماهي فاصلة C
- 3) علم النقطة D حتى يكون للقطعتين [CD] و [AB] نفس الطول

التمرين الثاني :

I - إنطلاقا من الشكل المقابل أعط :



- 1) الزوايا الحادة ، الزوايا القائمة .
- 2) زاويتين منفرجتين ولهما نفس القيس
- 3) أحسب قيس الزاوية \hat{ZOL}

II - أحسب مساحة الشكل

